



دبستان دخترانه
گلدونه

مدت زمان آزمون: -

نام و نام خانوادگی:

نام آزمون: ریاضی چهارم

تاریخ برگزاری: ۱۴۰۰/۱۲/۰۷

بارم

۱

①

بزرگ‌ترین عدد زوج ۵ رقمی که با رقم‌های ۶، ۱، ۴، ۵ و ۷ می‌توان نوشت کدام است؟ (تکرار ارقام مجاز نیست).

بارم

۱

②

کدام گزینه صحیح است؟

بارم

۱

③

با ارقام ۰، ۲، ۷ و ۸ چند عدد سه رقمی بدون تکرار ارقام می‌توان نوشت؟

بارم

۱

④

زهرا برای خرید یک کتاب، به فروشنده یک اسکناس ۵۰۰۰ تومانی و یک اسکناس ۲۰۰۰ تومانی و دو اسکناس ۵۰۰ تومانی می‌دهد. فروشنده به او سه اسکناس ۱۰۰۰ تومانی و یک اسکناس ۵۰۰ تومانی برمی‌گرداند. قیمت کتاب چند تومان می‌باشد؟

بارم

۱

⑤

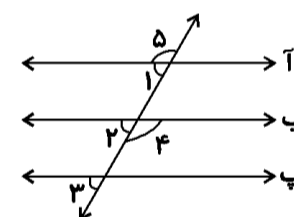
ارتفاع یک مثلث نصف و قاعده‌ی آن ۲ برابر شده است. مساحت آن

بارم

۱

⑥

سه خط «آ»، «ب» و «پ» با هم موازی هستند. یک خط این سه خط را قطع می‌کند، کدام نتیجه درست نیست؟



بارم

۱

⑦

اگر قاعده‌ی یک مثلث با قاعده‌ی یک متوازی الاضلاع و هم‌چنین ارتفاع آن‌ها با هم برابر باشند، آن‌گاه ...

بارم

۱

⑧

کدام گزینه مقدار بیشتری دارد؟

بارم

۱

⑨

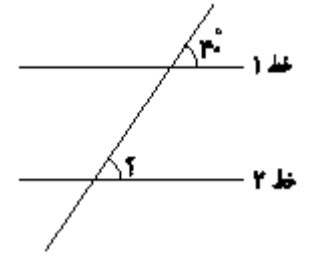
شکل مقابل چه تفریقی را نشان می‌دهد؟

یکی	دهم

بارم

۱۰

در شکل‌های داده شده خط‌های ۱ و ۲ با هم موازی هستند. اندازه‌ی زاویه‌ی «؟» درجه است و اگر خطی عمود بر خط ۱ رسم کنیم و تا پایین ادامه دهیم،



بارم

۱۱

۱

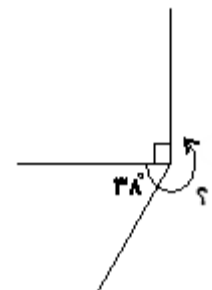
کدام گزینه صحیح نیست؟

بارم

۱۲

۱

اندازه‌ی زاویه مشخص شده برابر چند درجه است؟



بارم

۱۳

۱

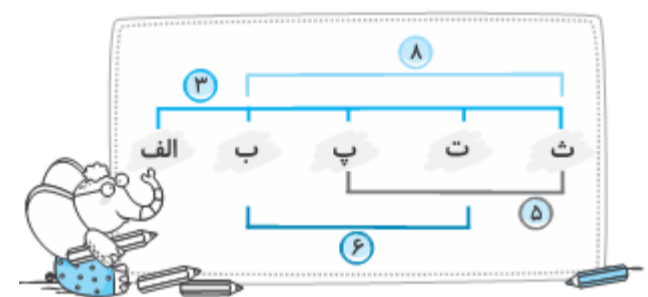
۸۲ دقیقه قبل از ساعت ۹ : ۳۵ کدام است؟

بارم

۱۴

۱

در شکل مقابل، اندازه‌ی پاره‌خط «ب پ» چند سانتی‌متر است؟ (اندازه‌های روی شکل به واحد سانتی‌متر هستند.)



بارم

۱۵

۱

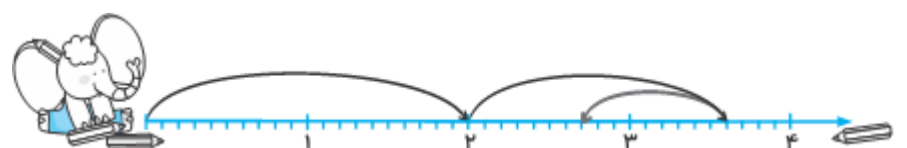
درون ظرفی که گنجایش آن یک لیتر است و به ۵ قسمت مساوی تقسیم شده است تا ۳ قسمت آب ریخته‌ایم. چند مقدار آب درون ظرف است؟

بارم

۱۶

۱

محور زیر کدام عبارت را نشان می‌دهد؟



۱۷

۸ واحد برابر است با

بارم

۱

۱۸

عدد مربوط به جدول ارزش مکانی زیر کدام است؟

بارم

۱

دهم	یکان	دهگان
۲	۵	۴
۱	۳	۱

۱۹

چند تا ده‌هزار در عدد ۵۰۰ میلیون وجود دارد؟

بارم

۱

۲۰

علی در هر دو هفته ۲۴ صفحه کتاب می‌خواند. او در طول یک سال، چند صفحه کتاب می‌خواند؟ (هر سال را ۳۶۴ روز در نظر بگیرید.)

بارم

۱