



دبستان دخترانه
گلدونه

مدت زمان آزمون: -

نام و نام خانوادگی:

نام آزمون: آزمون ریاضی

تاریخ برگزاری: ۱۴۰۰/۱۲/۰۷

۱) آیلاز از ۴ کیلو پسته $1/096$ کیلوگرم را هفته ی گذشته و $0/856$ گرم را این هفته خورده است. چه مقدار از بسته ها خورده شده اند؟

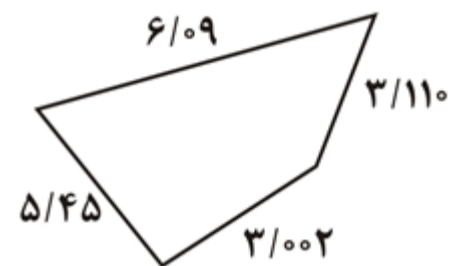
۱/۹۵۲ (۴)

۱/۴۸۲ (۳)

۱/۸۴۲ (۲)

۲/۹۵۲ (۱)

۲) محیط شکل زیر چقدر است؟



۱۷/۶۵۲ (۲)

۱۷/۶۲۵ (۱)

۱۶/۶۵۲ (۴)

۱۶/۶۲۵ (۳)

۳) ۹ تا ۱ تا ۰/۱ و ۵۴ تا ۰/۰۱ و ۱۸ تا ۰/۰۰۱ می شود؟

۱/۴۵۸ (۴)

۱/۵۴ (۳)

۱۸/۸۵۴ (۲)

۱۸/۹۵۴ (۱)

۴) اگر این سه عدد را جمع کنیم و بزرگ ترین رقم در چه مرتبه ای قرار می گیرد:

$$0/204 + 3/89 + 0/09 =$$

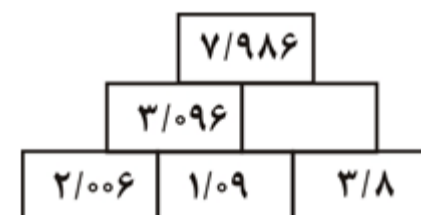
۱/۴۵۸ (۴)

دهم (۳)

هزارم (۲)

صدم (۱)

۵) جاهای خالی با چه عددی کامل می شود؟



۴/۹۸ (۲)

۴/۸۹۰ (۱)

۴/۳۸ (۴)

۴/۳۹ (۳)

۶) در جمع دو عدد $3/7$ و $4/9$ ، رقم مرتبه ی هزارم است.

۹ (۴)

۷ (۳)

۶ (۲)

صفر (۱)

۷) جمع کدام گزینه برابر با ۲ واحد کامل می شود؟

۲) $0/8 + 0/2 + 0/9$

۱) $0/65 + 1/15 + 0/35$

۴) $0/6 + 1/30 + 0/20$

۳) $1/35 + 0/40 + 0/25$

۸) اگر اعداد زیر را از کوچک به بزرگ مرتب کنید. سومین عدد از سمت چپ کدام خواهد بود؟

$$\frac{3}{4} - \frac{5}{999} - \frac{2}{9} - \frac{5}{100} - \frac{3}{8}$$

- ۱) $\frac{3}{4}$ (۱) ۲) $\frac{3}{8}$ (۲) ۳) $\frac{4}{5}$ (۳) ۴) $\frac{2}{9}$ (۴)

۹) کدام گزینه از $\frac{3}{5}$ کوچکتر است؟

- ۱) $\frac{2}{30}$ (۱) ۲) $\frac{1}{9}$ (۲) ۳) $\frac{220}{5}$ (۳) ۴) $\frac{40}{5}$ (۴)

۱۰) کدام عدد بین $\frac{2}{400}$ و $\frac{2}{2}$ قرار می گیرد؟

- ۱) $\frac{2}{30}$ (۱) ۲) $\frac{2}{5}$ (۲) ۳) $\frac{2}{1}$ (۳) ۴) $\frac{4}{10}$ (۴)

۱۱) کدام گزینه عدد نود و هفت و هفتصد و نه هزارم را به درستی نشان می دهد؟

- ۱) $\frac{97}{709}$ (۱) ۲) $\frac{97}{0709}$ (۲) ۳) $\frac{98}{79}$ (۳) ۴) $\frac{97}{907}$ (۴)

۱۲) $\frac{5}{36}$ متر برابر است با:

- ۱) $\frac{536}{1000}$ سانتی متر (۱)
۲) $\frac{5000}{1000}$ میلی متر و $\frac{36}{1000}$ سانتی متر (۲)
۳) $\frac{5036}{1000}$ سانتی متر (۳)
۴) $\frac{500}{1000}$ سانتی متر و $\frac{36}{1000}$ میلی متر (۴)

۱۳) وزن کیف سارینا $\frac{5}{60}$ کیلوگرم، کیف سما $\frac{5}{600}$ کیلوگرم، وزن کیف هلنا $\frac{5}{6}$ کیلوگرم و وزن کیف محیا $\frac{5}{600}$ کیلوگرم است، کیف کدام یک سبک تر است؟

- ۱) سارینا (۱) ۲) هلنا (۲) ۳) محیا (۳) ۴) سما (۴)

۱۴) با توجه به الگوی زیر، کدام عدد در جای خالی قرار نمی گیرند؟

$$2/250 - 2/2 - 2/150 - 2/1 - \dots\dots\dots$$

- ۱) $\frac{250}{1000}$ (۱) ۲) $\frac{2}{5}$ (۲) ۳) $\frac{5}{100}$ (۳) ۴) $\frac{2}{50}$ (۴)

۱۵) عدد $\frac{87}{1000}$ برابر است با:

- ۱) $\frac{87}{10}$ تا ۱ (۱)
۲) $\frac{87}{1000}$ تا $\frac{87}{100}$ (۲)
۳) $\frac{87}{10}$ تا $\frac{87}{100}$ (۳)
۴) $\frac{87}{1000}$ تا یک صدم (۴)

۱۶) یک نانوايي امروز صبح ۱۰۰ نان پخت. پدر پرمیس ۲۰ نان از نانوايي خرید. با توجه به این کدام گزینه صحیح نیست؟

- ۱) پدر پرمیس ۲۰٪ نان ها را خریده است.
۲) پدر پرمیس $\frac{20}{100}$ نان ها را خریده است.
۳) پدر پرمیس $\frac{200}{1000}$ نان ها را خریده است.
۴) پدر پرمیس $\frac{20}{1000}$ نان ها را خریده است.

۱۷) کدام عدد بین $\frac{6}{100}$ و $\frac{7}{100}$ قرار ندارند؟

- ۱) $\frac{620}{1000}$ (۱) ۲) $\frac{706}{1000}$ (۲) ۳) $\frac{65}{1000}$ (۳) ۴) $\frac{68}{1000}$ (۴)

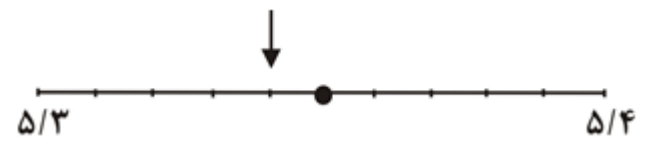
۱۸) کسر $\frac{653}{1000}$ را اگر بخواهیم به صورت اعشار بنویسیم کدام گزینه درست است؟

- ۱) $\frac{6}{35}$ (۱) ۲) $\frac{653}{1000}$ (۲) ۳) $\frac{65}{3}$ (۳) ۴) $\frac{6053}{1000}$ (۴)

۱۹) عدد $\frac{7}{905}$ به کدام عدد نزدیک تر است؟

- ۱) $\frac{7}{90}$ (۱) ۲) ۸ (۲) ۳) $\frac{7}{5}$ (۳) ۴) $\frac{7}{90}$ (۴)

۲۰) نقطه ی مشخص شده روی محور، چه عددی را نشان نمی دهد؟



$$\frac{5}{0.34} \quad (۲)$$

$$\frac{5}{34} \quad (۴)$$

$$5 \frac{34}{100} \quad (۱)$$

$$5/340 \quad (۳)$$